

# **Antwoorden Oefenvragen**

## **VMBO BB**



**Aardrijkskunde**

**Examenjaar 2025-2026**

# Inhoudsopgave

<b>Inhoudsopgave</b>	<b>2</b>
<b>A. Weer en klimaat</b>	<b>4</b>
<b>A1. Weer en klimaat in het algemeen</b>	<b>4</b>
1. Aardrijkskunde VMBO BB 2024, vraag 10	4
2. Aardrijkskunde VMBO BB 2021, vraag 5	5
3. Aardrijkskunde VMBO BB 2019, vraag 1	6
4. Aardrijkskunde VMBO BB 2018, vraag 1	7
5. Aardrijkskunde VMBO BB 2019, vraag 3	8
6. Aardrijkskunde VMBO BB 2017, tijdvak 1, vraag 8	9
7. Aardrijkskunde VMBO BB 2017, tijdvak 1, vraag 4	10
8. Aardrijkskunde VMBO BB 2017, tijdvak 1, vraag 13	11
9. Aardrijkskunde VMBO BB 2016, tijdvak 1, vraag 25	12
10. Aardrijkskunde VMBO BB 2018, vraag 13	13
<b>A2. Weer en klimaat in Nederland</b>	<b>13</b>
<b>A3. Weer en klimaat in de Verenigde Staten</b>	<b>13</b>
<b>B. Water</b>	<b>14</b>
<b>B1. Waterkringloop en rivieren</b>	<b>14</b>
11. Aardrijkskunde VMBO BB 2013, tijdvak 1, vraag 19	14
12. Aardrijkskunde VMBO BB 2013, tijdvak 1, vraag 18	15
13. Aardrijkskunde VMBO BB 2018, vraag 16	16
14. Aardrijkskunde VMBO BB 2016, tijdvak 1, vraag 15	17
<b>B2. Waterbeheer in Nederland</b>	<b>18</b>
15. Aardrijkskunde VMBO BB 2017, tijdvak 1, vraag 22	18
16. Aardrijkskunde VMBO BB 2013, tijdvak 1, vraag 33	19
17. Aardrijkskunde VMBO BB 2017, tijdvak 1, vraag 21	20
18. Aardrijkskunde VMBO BB 2013, tijdvak 1, vraag 26	21
<b>B3. Rivieren en waterbeheer in het Midden-Oosten</b>	<b>22</b>
19. Aardrijkskunde VMBO BB 2013, tijdvak 1, vraag 35	22
<b>C. Bevolking en ruimte</b>	<b>23</b>
<b>C1. Bevolkingsontwikkeling en ruimtegebrek in Nederland</b>	<b>23</b>



20.	Aardrijkskunde VMBO BB 2018, vraag 32	23
21.	Aardrijkskunde VMBO BB 2017, tijdvak 1, vraag 30	24
22.	Aardrijkskunde VMBO BB 2017, tijdvak 1, vraag 32	25
23.	Aardrijkskunde VMBO BB 2016, tijdvak 1, vraag 39	26
24.	Aardrijkskunde VMBO BB 2017, tijdvak 1, vraag 31	27
25.	Aardrijkskunde VMBO BB 2016, tijdvak 1, vraag 31	28
26.	Aardrijkskunde VMBO BB 2017, tijdvak 1, vraag 33	29
27.	Aardrijkskunde VMBO BB 2017, tijdvak 1, vraag 36	30
28.	Aardrijkskunde VMBO BB 2016, tijdvak 1, vraag 35	31
<b>C2.</b>	<b>Bevolkingsontwikkeling en ruimtegebrek in China</b>	<b>32</b>
29.	Aardrijkskunde VMBO BB 2024, vraag 41	32
30.	Aardrijkskunde VMBO BB 2021, vraag 38	33
31.	Aardrijkskunde VMBO BB 2017, tijdvak 1, vraag 41	34
32.	Aardrijkskunde VMBO BB 2016, tijdvak 1, vraag 37	35
33.	Aardrijkskunde VMBO BB 2015, tijdvak 1, vraag 34	36
34.	Aardrijkskunde VMBO BB 2015, tijdvak 1, vraag 36	37
35.	Aardrijkskunde VMBO BB 2024, vraag 43	38



# A. Weer en klimaat

## A1. Weer en klimaat in het algemeen

### 1. Aardrijkskunde VMBO BB 2024, vraag 10



#### Oefenvraag digitaal examen 2024 – vraag 10

Geef bij elke uitspraak aan of die over het weer of over het klimaat gaat.

1. Aan de noordoostkust van de Verenigde Staten valt gemiddeld meer neerslag dan in het midden van de Verenigde Staten.
2. De orkaan Florence bereikte op 10 september 2018 windsnelheden van 200 kilometer per uur aan de oostkust van de Verenigde Staten.

*Maximumscore 1 punt*

*Het juiste antwoord is:*

- 1. Klimaat
- 2. Weer



## 2. Aardrijkskunde VMBO BB 2021, vraag 5



### Oefenvraag digitaal examen 2021 – vraag 5

We maken onderscheid tussen weer en klimaat.

Welke uitspraak gaat over het klimaat?

A De temperatuur in Limburg is volgende week minstens 23 °C.

B In Nederland is er het hele jaar door kans op neerslag.

C Er was op 5 januari 2016 een verschil in temperatuur van 15 graden tussen Groningen en Limburg.

D Het regende gisteren in Utrecht de hele dag.

*Maximumscore 1 punt*

*Het juiste antwoord is:*

- B



### 3. Aardrijkskunde VMBO BB 2019, vraag 1



#### Oefenvraag digitaal examen 2019 – vraag 1

Geef bij elke uitspraak aan of deze gaat over weer of over klimaat.

1. De totale hoeveelheid neerslag zal toenemen in de komende jaren.
2. In Leeuwarden wordt het vandaag warmer dan in Utrecht.
3. De gemiddelde temperatuur in Nederland was in 2010 hoger dan in 1950.
4. Op 14 juli 2010 ontstond in Vethuizen (Gelderland) veel schade door zware windstoten met hoge windsnelheden.

*Maximumscore 2 punten*

*Het juiste antwoord is:*

- 1. Klimaat
- 2. Weer
- 3. Klimaat
- 4. Weer



## 4. Aardrijkskunde VMBO BB 2018, vraag 1



### Oefenvraag digitaal examen 2018 – vraag 1

Er worden twee uitspraken over klimaat en weer gedaan.

Geef van elke uitspraak aan of deze juist of onjuist is.

1. Het klimaat is de gemiddelde toestand van het weer berekend over een lange periode (meestal 30 jaar).
2. Het klimaat verandert sneller dan het weer.

*Maximumscore 1 punt*

*Het juiste antwoord is:*

- 1. Juist
- 2. Onjuist

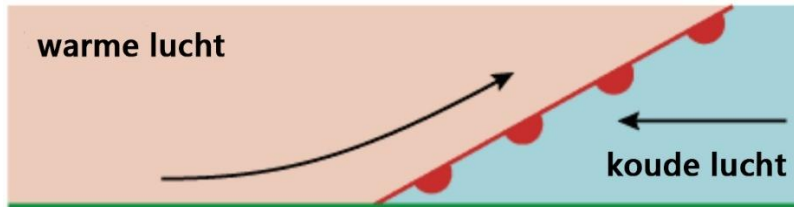


## 5. Aardrijkskunde VMBO BB 2019, vraag 3



### Oefenvraag digitaal examen 2019 – vraag 3

Weerssituatie



Welke vorm van neerslag ontstaat in de weersituatie in de afbeelding?

- A frontale neerslag
- B stijgingsneerslag
- C stuwingsneerslag

*Maximumscore 1 punt*

*Het juiste antwoord is:*

- A

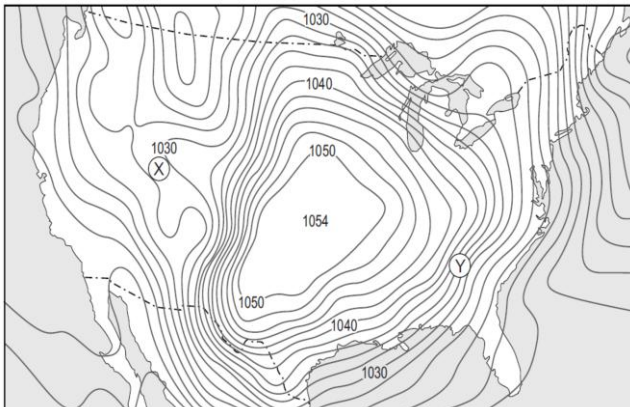


## 6. Aardrijkskunde VMBO BB 2017, tijdvak 1, vraag 8



### Oefenvraag examen 2017 tijdvak 1 – vraag 8

Bron 7: Isobarenkaart van de Verenigde Staten



Bekijk bron 7. In bron 7 staan isobaren aangegeven.  
Wat geven isobaren aan?

*Maximumscore 1 punt*

*Het juiste antwoord is:*

- (Dezelfde) luchtdruk.



## 7. Aardrijkskunde VMBO BB 2017, tijdvak 1, vraag 4



### Oefenvraag examen 2017 tijdvak 1 – vraag 4

Over bewolking worden drie uitspraken gedaan.  
Geef bij elke uitspraak aan of deze juist of onjuist is.

	juist	onjuist
Bewolking ontstaat alleen boven wateroppervlaktes.		
Bewolking ontstaat als vochtige lucht opstijgt.		
Een gebied met 1030 millibar luchtdruk zal meer bewolking hebben dan een gebied met 985 millibar luchtdruk.		

*Maximumscore 2 punten*

*Het juiste antwoord is:*

- Onjuist, juist, onjuist



## 8. Aardrijkskunde VMBO BB 2017, tijdvak 1, vraag 13



### Oefenvraag examen 2017 tijdvak 1 – vraag 13

#### Bron 13

Een beschrijving van het klimaat in Vermont

De zomers in Vermont zijn relatief warm: de gemiddelde maximumtemperatuur ligt tussen de 25 en 28 °C in de zomermaanden. Vanaf de tweede helft van september gaan de temperaturen snel naar beneden. Waar september nog een gemiddelde maximumtemperatuur haalt van 20 tot 22 °C, moet november het doen met gemiddeld slechts 2 °C. Dat betekent dus een temperatuedaling van maar liefst twintig graden in twee maanden tijd. Na november komt de thermometer 's nachts nog maar zelden boven het vriespunt. Gemiddeld vriest het in december, januari en februari ongeveer tien tot twintig graden. Pas vanaf april ligt de gemiddelde nachttemperatuur weer rond het vriespunt.

Lees bron 13. Bron 13 is een beschrijving van het klimaat in Vermont.

Welk klimaat past bij deze beschrijving?

- A droog klimaat
- B gematigd zeeklimaat
- C landklimaat
- D tropisch regenklimaat
- E sneeuw- en ijsklimaat

*Maximumscore 1 punt*

*Het juiste antwoord is:*

- C



## 9. Aardrijkskunde VMBO BB 2016, tijdvak 1, vraag 25



### Oefenvraag examen 2016 tijdvak 1 – vraag 25

In Egypte wordt in de landbouw veel oppervlakte-irrigatie toegepast.

Wat is een veelvoorkomend nadeel van deze vorm van irrigatie?

- A De bodem gaat verzilten.
- B De erosie zal toenemen.
- C Er vindt meer sedimentatie plaats.
- D Landbouwgewassen gaan sneller rotten.

*Maximumscore 1 punt*

*Het juiste antwoord is:*

- A



## 10. Aardrijkskunde VMBO BB 2018, vraag 13



### Oefenvraag digitaal examen 2018 – vraag 13

#### Plantengroei in de kuststrook van Californië tussen San Francisco en Los Angeles

De kuststrook van Californië tussen San Francisco en Los Angeles heeft door de grote variatie in neerslag een speciaal aangepaste plantengroei. Veel planten hebben taaie bladeren die weinig water afgeven. Vaak zijn deze bladeren voorzien van een extra waslaag. Voorbeelden hiervan zijn de pijnboom, de olijfboom, de palmboom en de kurkeik.

Welke vegetatiezone wordt in de tekst beschreven?

- A altijdgroene mediterrane plantengroei
- B steppe
- C toendra
- D woestijn

*Maximumscore 1 punt*

*Het juiste antwoord is:*

- A

## A2. Weer en klimaat in Nederland

-

## A3. Weer en klimaat in de Verenigde Staten

-



## B. Water

### B1. Waterkringloop en rivieren

#### 11. Aardrijkskunde VMBO BB 2013, tijdvak 1, vraag 19



#### Oefenvraag examen 2013 tijdvak 1 – vraag 19

Bron 22: een deel van de kringloop



De kringloop - die getekend is in bron 22 - zou die van Nederland kunnen zijn. Het gebied rechts in de bron is dan de kuststrook.

In welke vorm komt die neerslag in de kuststrook naar beneden?

- A alleen als regen
- B meestal als regen en soms als sneeuw
- C meestal als sneeuw en soms als regen
- D alleen als sneeuw

*Maximumscore 1 punt*

*Het juiste antwoord is:*

- B



## 12. Aardrijkskunde VMBO BB 2013, tijdvak 1, vraag 18



### Oefenvraag examen 2013 tijdvak 1 – vraag 18

Kira houdt in de klas een spreekbeurt over de kringloop van het water. Aan het eind van haar spreekbeurt vraagt zij aan haar klasgenoten waar zich het meeste zoete water bevindt.

Akke zegt: "In sneeuwkapen en gletsjers."

Femke zegt: "In de oceanen."

Wie heeft er gelijk?

A Alleen Akke heeft gelijk.

B Alleen Femke heeft gelijk.

C Akke en Femke hebben beiden gelijk.

D Akke en Femke hebben beiden ongelijk.

*Maximumscore 1 punt*

*Het juiste antwoord is:*

- A



### 13. Aardrijkskunde VMBO BB 2018, vraag 16



#### Oefenvraag digitaal examen 2018 – vraag 16

Hoe noemen we de grens tussen twee stroomgebieden?

- A de delta
- B de riviermonding
- C de waterscheiding

*Maximumscore 1 punt*

*Het juiste antwoord is:*

- C



## 14. Aardrijkskunde VMBO BB 2016, tijdvak 1, vraag 15



### Oefenvraag examen 2016 tijdvak 1 – vraag 15

Bron 14: drie foto's van de Rijn

foto 1



foto 2



foto 3



Welke foto uit bron 14 laat een deel van de benedenloop van de Rijn zien?

- A foto 1
- B foto 2
- C foto 3

*Maximumscore 1 punt*

*Het juiste antwoord is:*

- C



## B2. Waterbeheer in Nederland

### 15. Aardrijkskunde VMBO BB 2017, tijdvak 1, vraag 22



#### Oefenvraag examen 2017 tijdvak 1 – vraag 22

Een waterschap heeft verschillende taken.

Waterschappen moeten letten op de waterkwaliteit en de waterkwantiteit.

Geef bij elke taak aan of deze hoort bij waterkwaliteit of bij waterkwantiteit.

	waterkwaliteit	waterkwantiteit
sloten controleren op vervuiling		
het waterpeil regelen en bewaken		
waterwegen uitbaggeren		
afvalwater zuiveren		

*Maximumscore 2 punten*

*Het juiste antwoord is:*

	Waterkwaliteit	Waterkwantiteit
Sloten controleren op vervuiling	X	
Het waterpeil regelen en bewaken		X
Waterwegen uitbaggeren		X
Afvalwater zuiveren	X	



## 16. Aardrijkskunde VMBO BB 2013, tijdvak 1, vraag 33



### Oefenvraag examen 2013 tijdvak 1 – vraag 33

#### Bron 30

Water is schaars in Kenia

Meer dan de helft van de mensen in Kenia heeft geen toegang tot schoon drinkwater. Op sommige plekken is er soms maar 5 liter per persoon per dag beschikbaar. Mensen moeten vaak kilometers lopen naar de dichtstbijzijnde waterbron. Ze zijn uren per dag bezig om genoeg water te halen om te drinken en mee te koken.

Uit bron 30 blijkt dat Kenia problemen heeft met de watervoorziening.

Deze problemen hebben te maken met

A alleen de waterkwaliteit.

B alleen de waterkwantiteit.

C zowel de waterkwaliteit als de waterkwantiteit.

*Maximumscore 1 punt*

*Het juiste antwoord is:*

- C



## 17. Aardrijkskunde VMBO BB 2017, tijdvak 1, vraag 21



### Oefenvraag examen 2017 tijdvak 1 – vraag 21

Kribverlaging is één van de maatregelen die genomen wordt om de kans op overstromingen te verlagen.

Waardoor leidt kribverlaging tot minder kans op overstromingen?

*Maximumscore 1 punt*

*Het juiste antwoord is:*

- Door de kribben te verlagen kan het water van de rivier sneller wegstromen / neemt het waterbergend vermogen toe.



## 18. Aardrijkskunde VMBO BB 2013, tijdvak 1, vraag 26



### Oefenvraag examen 2013 tijdvak 1 – vraag 26

#### Bron 27

Het gemiddelde waterverbruik in Nederland per persoon per dag in drie verschillende jaren

Bron 27 geeft een overzicht van het gemiddelde waterverbruik in Nederland per persoon per dag in verschillende jaren.

Waarvoor werd door een gemiddelde Nederlander het meeste water verbruikt in 2004?

- A voor het toilet
- B voor de persoonlijke hygiëne
- C voor de was

cijfers in liters per persoon	1992	1998	2004
bad	8,0	6,7	2,8
douche	39,5	39,7	43,7
wastafel	3,7	5,1	5,1
toilet	42,7	36,2	35,8
kleren wassen, met de hand	2,5	2,1	1,5
kleren wassen, met de machine	23,2	23,2	18,0
afwassen, met de hand	8,8	3,8	3,9
afwassen, met de machine	0,7	1,9	3,0
eten koken	2,6	1,7	1,8
koffie, thee, water drinken	1,5	1,5	1,6
overig	3,3	6,1	6,4
totaal	136,5	128	123,6

*Maximumscore 1 punt*

*Het juiste antwoord is:*

- B




## B3. Rivieren en waterbeheer in het Midden-Oosten

### 19. Aardrijkskunde VMBO BB 2013, tijdvak 1, vraag 35



#### Oefenvraag examen 2013 tijdvak 1 – vraag 35

Bron 32: een stuwdam



Bron 32 laat een stuwdam zien.

Stuwdammen hebben voordelen en nadelen voor het gebied.

Geef een voordeel van zo'n stuwdam voor het gebied.

*Maximumscore 1 punt*

*Voorbeelden van een juist antwoord zijn:*

- Het levert elektriciteit op.
- Het levert werkgelegenheid op.
- Er is (meer) drinkwater / irrigatiewater beschikbaar.
- Het trekt toeristen aan.



## C. Bevolking en ruimte

### C1. Bevolkingsontwikkeling en ruimtegebrek in Nederland

#### 20. Aardrijkskunde VMBO BB 2018, vraag 32



#### Oefenvraag digitaal examen 2018 – vraag 32

Bevolkingsontwikkeling in Nederland in september 2016 (afgerond op duizendtallen)

geboorte	15.000
sterfte	11.000
immigratie	31.000
emigratie	13.000

Hoe groot was de SOCIALE bevolkingsgroei in september 2016 in Nederland?

- A 4.000
- B 14.000
- C 18.000
- D 22.000

*Maximumscore 1 punt*

*Het juiste antwoord is:*

- C



## 21. Aardrijkskunde VMBO BB 2017, tijdvak 1, vraag 30



### Oefenvraag examen 2017 tijdvak 1 – vraag 30

In 2016 bestond de totale bevolking in Nederland uit 17.000.000 mensen.

In 2016 was het geboortecijfer 11 en het sterftcijfer 9.

Wat was de natuurlijke groei in 2016?

- A 3.400
- B 34.000
- C 18.700
- D 187.000

*Maximumscore 1 punt*

*Het juiste antwoord is:*

- B

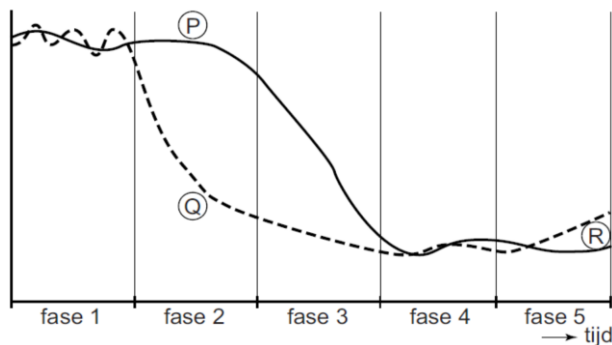


## 22. Aardrijkskunde VMBO BB 2017, tijdvak 1, vraag 32



### Oefenvraag examen 2017 tijdvak 1 – vraag 32

Bron 27: transitie­model bevolking



Bekijk bron 27. In bron 27 staan de letters P, Q en R.

Waar staan de omschrijvingen juist bij de letters P, Q en R uit bron 27?

	P	Q	R
A	geboortecijfer	sterftcijfer	geboorteoverschot
B	geboortecijfer	sterftcijfer	sterfteoverschot
C	sterftcijfer	geboortecijfer	geboorteoverschot
D	sterftcijfer	geboortecijfer	sterfteoverschot

*Maximumscore 1 punt*

*Het juiste antwoord is:*

- B



## 23. Aardrijkskunde VMBO BB 2016, tijdvak 1, vraag 39



### Oefenvraag examen 2016 tijdvak 1 – vraag 39

Mensen hebben verschillende redenen om te migreren. Ze maken een afweging tussen aantrekkingsfactoren en afstotingsfactoren.

Geef van de volgende vier kenmerken aan of ze een aantrekkingsfactor van de stad zijn of een afstotingsfactor van het platteland.

kenmerk	aantrekkingsfactor van de stad	afstotingsfactor van het platteland
laag voorzieningenniveau		
uitgebreide infrastructuur		
veel opleidingsmogelijkheden		
werk voor hoger opgeleiden		

*Maximumscore 2 punten*

*Het juiste antwoord is:*

- Laag voorzieningenniveau = afstotingsfactor van het platteland
- Uitgebreide infrastructuur = aantrekkingsfactor van de stad
- Veel opleidingsmogelijkheden = aantrekkingsfactor van de stad
- Werk voor hoger opgeleiden = aantrekkingsfactor van de stad

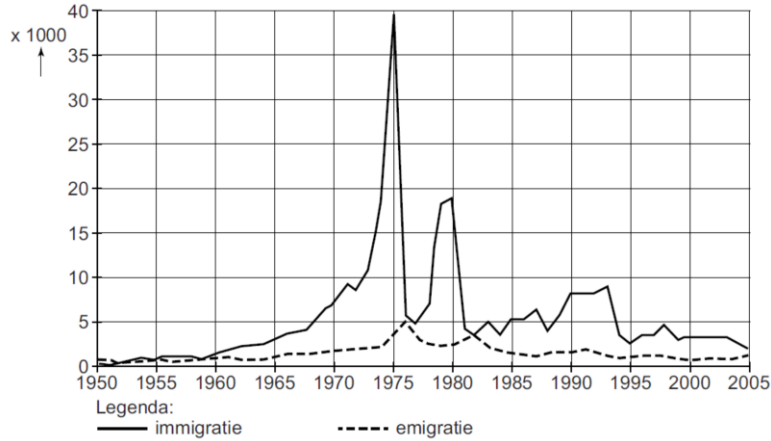


## 24. Aardrijkskunde VMBO BB 2017, tijdvak 1, vraag 31



### Oefenvraag examen 2017 tijdvak 1 – vraag 31

Bron 26: Nederland, emigratie en immigratie, 1950 – 2005



Bekijk bron 26. Bron 26 laat de migratie tussen een bepaald land en Nederland zien. In 1975 kwamen er veel meer migranten uit dat land naar Nederland dan in andere jaren. Uit welk land was dat?

- A uit Indonesië
- B uit Marokko
- C uit Suriname
- D uit Turkije

*Maximumscore 1 punt*

*Het juiste antwoord is:*

- C



## 25. Aardrijkskunde VMBO BB 2016, tijdvak 1, vraag 31



### Oefenvraag examen 2016 tijdvak 1 – vraag 31

In 2012 was de bevolkingsdichtheid in Nederland 497.

Wat wordt daarmee bedoeld?

A de manier waarop de bevolking verspreid is over Nederland

B het aantal mensen dat gemiddeld op een km<sup>2</sup> woont

C het aantal mensen dat in Nederland woont x 1000

D dat in het ene gebied in Nederland meer mensen wonen dan in het andere gebied

*Maximumscore 1 punt*

*Het juiste antwoord is:*

- B



## 26. Aardrijkskunde VMBO BB 2017, tijdvak 1, vraag 33



### Oefenvraag examen 2017 tijdvak 1 – vraag 33

Welke voorziening heeft in Nederland gemiddeld het grootste verzorgingsgebied?

- A een basisschool
- B een peuterspeelzaal
- C een school voor voortgezet onderwijs
- D een universiteit

*Maximumscore 1 punt*

*Het juiste antwoord is:*

- D



## 27. Aardrijkskunde VMBO BB 2017, tijdvak 1, vraag 36



### Oefenvraag examen 2017 tijdvak 1 – vraag 36

In stadsdeel Oud-West in Nijmegen zijn verschillende oude bedrijfslocaties vrijgekomen.  
Op de plek van de bedrijven wil de gemeente woningen bouwen.

Welk gemeentelijk plan moet daarvoor gewijzigd worden?

*Maximumscore 1 punt*

*Het juiste antwoord is:*

- Het bestemmingsplan.



## 28. Aardrijkskunde VMBO BB 2016, tijdvak 1, vraag 35



### Oefenvraag examen 2016 tijdvak 1 – vraag 35

Er worden drie uitspraken gedaan over landelijke en stedelijke gebieden in Nederland.  
Geef bij elke uitspraak aan of deze juist of onjuist is.

	juist	onjuist
In landelijke gebieden ver van de stad wonen meer mensen van buitenlandse afkomst dan in gebieden dicht bij de stad.		
In landelijke gebieden is het voorzieningenniveau hoger dan in stedelijke gebieden.		
Een oorzaak van het ontstaan van grote winkelcentra aan de rand van de stad is de afgenomen bereikbaarheid van de stadscentra met de auto.		

*Maximumscore 2 punten*

*Het juiste antwoord is:*

- Onjuist, onjuist, juist.



## C2. Bevolkingsontwikkeling en ruimtegebrek in China

### 29. Aardrijkskunde VMBO BB 2024, vraag 41



#### Oefenvraag digitaal examen 2024 – vraag 41

Over de eenkindpolitiek in China worden twee uitspraken gedaan.  
Geef van elke uitspraak aan of die juist of onjuist is.

1. De eenkindpolitiek moest de bevolkingsgroei in China afremmen.
2. In China zijn meer meisjes dan jongens door de eenkindpolitiek.

*Maximumscore 1 punt*

*Het juiste antwoord is:*

- 1. Juist
- 2. Onjuist



## 30. Aardrijkskunde VMBO BB 2021, vraag 38



### Oefenvraag digitaal examen 2021 – vraag 38

#### Krantenartikel

Beijing 30 oktober 2015 – Na 35 jaar heeft de Chinese regering de eenkindpolitiek definitief afgeschaft. China gaat over op een tweekinderenbeleid. Chinese stellen hebben voortaan het recht om twee kinderen te krijgen, zo heeft de Chinese Communistische Partij donderdag besloten.

Over de eenkindpolitiek in China worden twee uitspraken gedaan.  
Geef bij elke uitspraak aan of deze juist of onjuist is.

1. Door de eenkindpolitiek is het aantal inwoners van China afgenomen.
2. Door de eenkindpolitiek is het geboortecijfer afgenomen.

*Maximumscore 1 punt*

*Het juiste antwoord is:*

- 1. Onjuist
- 2. Juist



## 31. Aardrijkskunde VMBO BB 2017, tijdvak 1, vraag 41



### Oefenvraag examen 2017 tijdvak 1 – vraag 41

Sinds 1980 zijn er in China duidelijk meer jongens dan meisjes geboren.  
Daardoor zijn er nu meer jonge mannen dan jonge vrouwen.

Noem een maatschappelijk gevolg van het ongelijke aantal jonge mannen en vrouwen.

*Maximumscore 1 punt*

*Voorbeelden van een juist maatschappelijk gevolg zijn:*

- Er zijn te weinig vrouwen om te trouwen. / Er worden bruiden uit het buitenland gehaald.
- Veel laagopgeleide mannen kunnen niet trouwen.
- Jongens worden enorm verwend door hun ouders (status hoger).



## 32. Aardrijkskunde VMBO BB 2016, tijdvak 1, vraag 37



### Oefenvraag examen 2016 tijdvak 1 – vraag 37

In 1979 stelde de Chinese regering de één-kind politiek in.  
Wat was de belangrijkste reden voor de Chinese regering om de eenkindpolitiek in te stellen?

*Maximumscore 1 punt*

*Het juiste antwoord is:*

- Uit het antwoord moet blijken dat de regering daarmee de snelle bevolkingsgroei wilde afremmen / dat de regering bang was voor overbevolking.

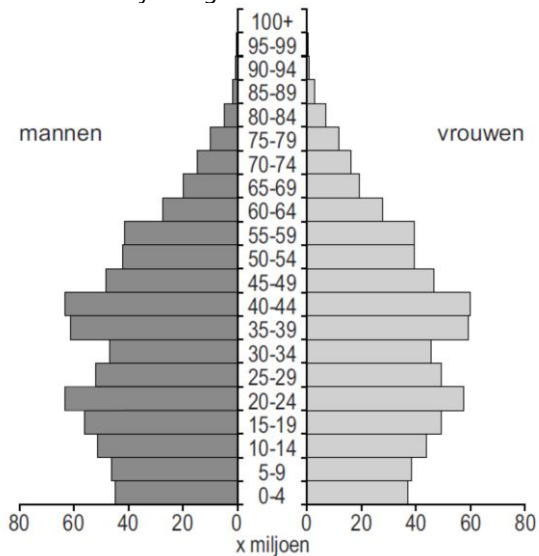


### 33. Aardrijkskunde VMBO BB 2015, tijdvak 1, vraag 34



#### Oefenvraag examen 2015 tijdvak 1 – vraag 34

Bron 38: leeftijdsdiagram van China in 2010



Naar aanleiding van het leeftijdsdiagram van China in 2010 (bron 38) worden twee uitspraken gedaan. Geef bij elke uitspraak aan of deze juist of onjuist is.

	juist	onjuist
Er zijn meer jongens dan meisjes in de leeftijdsgroep 0-10 jaar.	<input type="checkbox"/>	<input type="checkbox"/>
De vergrijzing zal de komende jaren toenemen.	<input type="checkbox"/>	<input type="checkbox"/>

**Maximumscore 1 punt**

**Het juiste antwoord is:**

- Juist, juist



## 34. Aardrijkskunde VMBO BB 2015, tijdvak 1, vraag 36



### Oefenvraag examen 2015 tijdvak 1 – vraag 36

Veel boeren in China verhuisden naar de steden.

Wat is de belangrijkste reden dat steeds meer boeren van het platteland naar de steden trekken?

- A De veiligheid voor hun gezin is er groter.
- B De boeren kunnen daar een hogere opleiding volgen.
- C Er was veel werkgelegenheid in de industrie.
- D Er zijn grotere en goedkopere woningen beschikbaar.

*Maximumscore 1 punt*

*Het juiste antwoord is:*

- C



## 35. Aardrijkskunde VMBO BB 2024, vraag 43



### Oefenvraag digitaal examen 2024 – vraag 43

Een hutong in China



Op de foto is een hutong te zien.  
Maak de zinnen juist af.

Hutongs zijn oude volksbuurtjes in het centrum van de stad. Een hutong is ommuurd en bestaat uit ... (**brede / smalle**) straten. In een hutong is de bebouingsdichtheid ... (**lager / hoger**) dan op het platteland.

*Maximumscore 1 punt*

*Het juiste antwoord is:*

- smalle
- hoger

